

MATEMATIKA BERPOLA
PAKET SOAL 1
30 SOAL - 40 MENIT

1. Perhatikan bilangan-bilangan di bawah ini, kemudian tentukan bilangan yang kosong di dalam tanda kurung!

12 (10) 8
 13 (....) 11

- a. 9 c. 11 e. 13
 b. 10 d. 12

2. Berapakah angka yang tepat untuk diisikan ke dalam kurung di bawah ini?

12 (56) 16
 17 (....) 23

- a. 64 c. 16 e. 80
 b. 70 d. 71

3. Carilah angka berapa yang hilang?

368 (56) 256
 218 (....) 114

- a. 52 c. 18 e. 66
 b. 43 d. 29

4. Tentukanlah berapa angka yang tepat untuk mengisi angka di dalam kurung.

72 (58) 14
 65 (....) 25

- a. 35 d. 40
 b. 45 e. 55
 c. 50

5. Tentukanlah berapa angka yang tepat untuk diisikan di dalam kurung.

8 (34) 9
 7 (....) 9

- a. 30 c. 32 e. 36
 b. 31 d. 34

6. Isilah angka yang tepat

46 (29) 12
 13(....) 11

- a. 10 c. 12 e. 16
 b. 11 d. 14

7. Berapakah angka yang sesuai untuk di dalam kurung?

148 (110) 368
 243 (....) 397

- a. 84 c. 28 e. 94
 b. 77 d. 13

8. Masukkan angka yang tepat ke dalam kurung.

437 (410) 642
 541 (....) 783

- a. 484 c. 166 e. 318
 b. 216 d. 237

9. Perhatikan bilangan-bilangan di bawah ini, kemudian tentukan bilangan yang kosong di dalam tanda kurung!

33 (8) 31
 67 (....) 54

- a. 8 c. 10 e. 12
 b. 9 d. 11

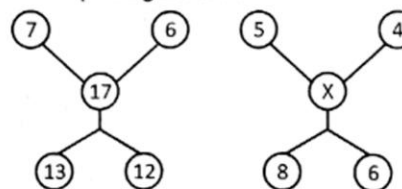
10. Berapakah angka yang tepat?

324 (486) 567
 345 (....) 678

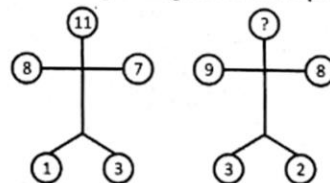
- a. 189 c. 666 e. 555
 b. 714 d. 777

11. Berapakah nilai x pada gambar di bawah ini

- a. 14
 b. 10
 c. 8
 d. 6
 e. 4

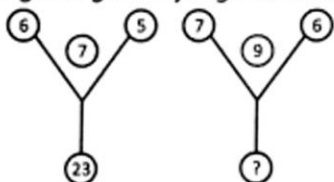


12. Perhatikan gambar-gambar di bawah ini, kemudian tentukanlah berapa nilai atau angka untuk mengisi lingkaran di kepala.



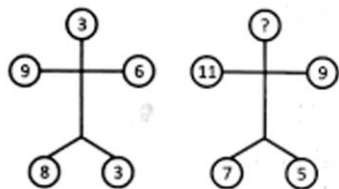
- a. 10 c. 12 e. 14
b. 11 d. 13

13. Perhatikan gambar di bawah ini, kemudian tentukanlah bilangan yang paling tepat untuk mengisi lingkaran yang masih kosong.



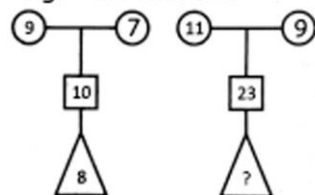
- a. 33 c. 35 e. 37
b. 34 d. 36

14. Perhatikan gambar di bawah ini, kemudian tentukan bilangan yang kosong pada gambar tersebut!



- a. 10 c. 15 e. 19
b. 12 d. 17

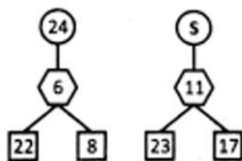
15. Perhatikan bilangan pada gambar di bawah ini, kemudian tentukan bilangan yang kosong pada gambar tersebut!



- a. 96 c. 48 e. 21
b. 84 d. 42

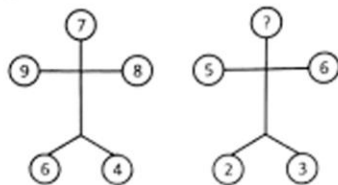
16. Perhatikan gambar di bawah ini, kemudian tentukan nilai s pada gambar tersebut!

- a. 22
b. 29
c. 17
d. 15
e. 12



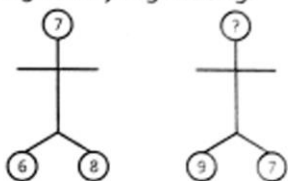
17. Perhatikan angka-angka yang terdapat pada lingkaran di bawah ini, kemudian tentukanlah berapa nilai atau angka yang harus diisikan pada lingkaran yang kosong!

- a. 5
b. 6
c. 7
d. 8
e. 9



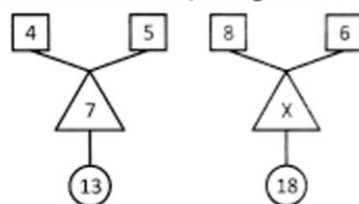
18. Perhatikan angka-angka di bawah ini, kemudian tentukanlah berapa nilai yang tepat untuk mengisi lingkaran yang kosong.

- a. 6
b. 7
c. 8
d. 9
e. 5



19. Perhatikan bilangan pada gambar di bawah ini, kemudian tentukan nilai x pada gambar tersebut!

- a. 48
b. 30
c. 24
d. 18
e. 4



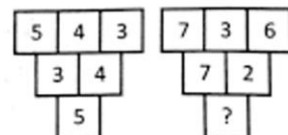
20. Perhatikan kotak-kotak berikut ini dan tentukanlah berapa angka yang tepat yang harus diisikan pada kotak yang masih kosong

9	3	27	9
16	4	28	?

- a. 24 c. 7
b. 28 d. 9 e. 12

21. Perhatikan gambar di bawah ini, kemudian tentukan bilangan yang kosong.

- a. 13
b. 11
c. 9
d. 7
e. 5



22. Perhatikan bilangan pada gambar di bawah ini, kemudian tentukan nilai x pada gambar tersebut!



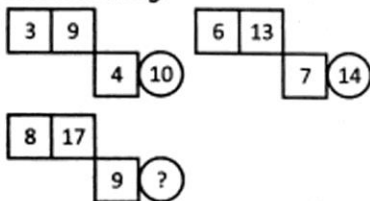
- a. 65 c. 37 e. 15
b. 52 d. 24

23. Berapakah nilai n?

12	6	4	8
8	4	7	14
6	2	3	9
18	3	2	n

- a. 12 c. 20 e. 22
b. 18 d. 21

24. Perhatikan gambar kotak-kotak dan lingkaran di bawah ini, kemudian isilah angka atau bilangan yang tepat pada lingkaran yang masih kosong.



- a. 15 c. 17 e. 19
b. 16 d. 18

25. Berapakah angka yang tepat untuk mengisi kotak-kotak yang masih kosong?

1	1	3	27	5	125	?	?
---	---	---	----	---	-----	---	---

- a. 7 dan 49 d. 7 dan 243
b. 8 dan 64 e. 8 dan 343
c. 7 dan 343

26. Perhatikan kotak-kotak di bawah ini, kemudian tentukanlah berapa angka yang masih kosong dalam kotak tersebut!

6	5	11
3	6	9
$\frac{2}{3}$	$\frac{3}{4}$?

- a. $\frac{5}{7}$ c. $1\frac{5}{12}$ e. $1\frac{5}{7}$
b. $\frac{5}{12}$ d. $2\frac{5}{12}$

27. Tentukanlah bilangan yang tepat untuk mengisi kotak yang masih kosong dari gambar berikut:

2	6	11	19	?
4	8	13	15	?

- a.

20
22

 c.

23
25

 e.

25
26

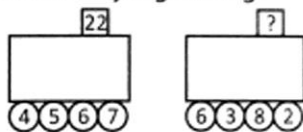
b.

26
24

 d.

25
23

28. Perhatikan gambar-gambar di bawah ini dan hitunglah berapa angka yang harus diisikan pada kotak yang kosong.



- a. 23 c. 20 e. 19
b. 24 d. 21

29. Perhatikan gambar di bawah ini, kemudian tentukan nilai z!



- a. 100 c. 144 e. 196
b. 121 d. 169

30. Perhatikan kotak-kotak di bawah ini, kemudian tentukanlah beberapa angka atau bilangan yang masih kosong dalam kotak tersebut.

5	7	12
7	12	19
12	19	?

- a. 31 c. 21 e. 32
b. 13 d. 12